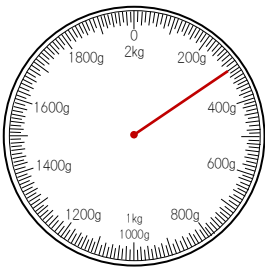


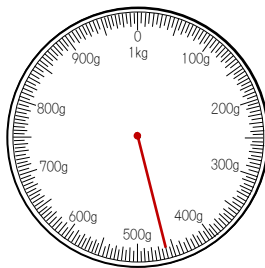
1 () に合う重さの単位を書きましょう。

- ① トマト1この重さ 150 ()
- ② おすもうさんの体重 120 ()
- ③ スプーン1本の重さ 30 ()
- ④ バス1台の重さ 15 ()

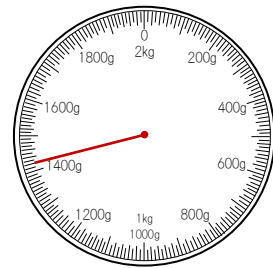
2 つぎのはかりの目もりをよみなさい。



_____ g



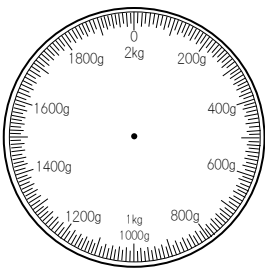
_____ g



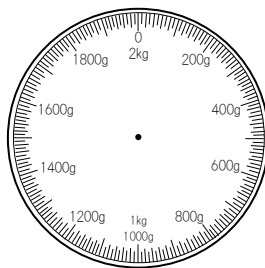
_____ g

_____ kg _____ g

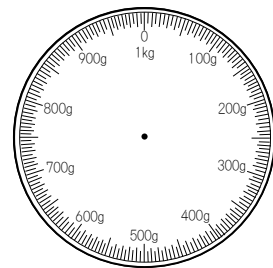
3 つぎの重さを→で量りに書きましょう。



1 kg 40 g



1900 g



630 g

